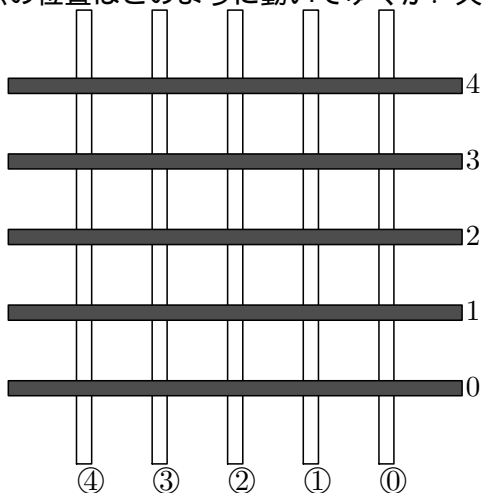
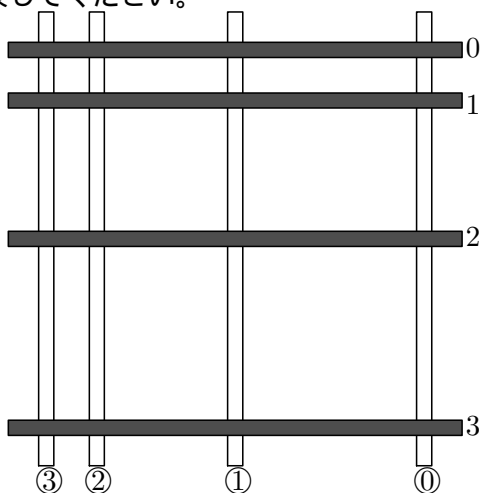


交差する棒の運動が生む映像

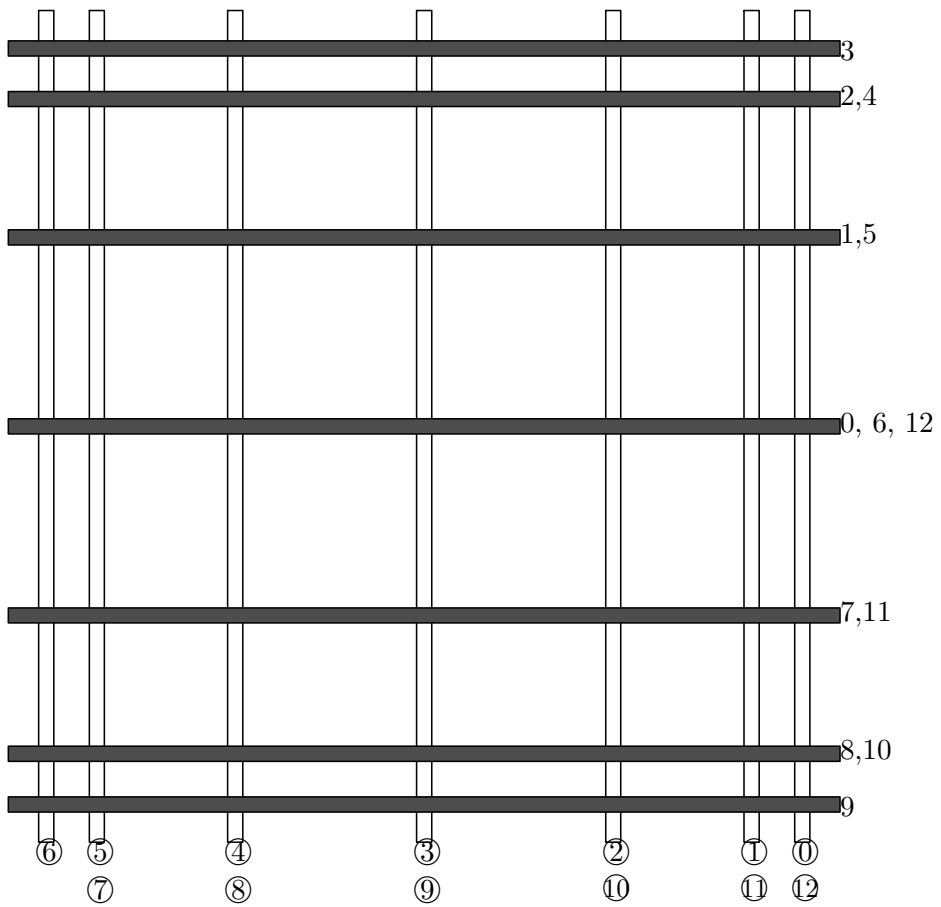
(イ) 図で、白棒が④のとき黒棒は0に、白棒が①のとき黒棒は1に、……、となるように、白棒と黒棒を動かしてゆくとする。このとき、白棒と黒棒の交差点の位置はどのように動いてゆくか？ 矢印付きの線で表してください。



(ロ) 白棒と黒棒の交差点の位置はどのように動いてゆくか？ 矢印付きの線で表してください。



(ハ) 白棒と黒棒の交差点の位置はどのように動いてゆくか？ 矢印付きの線で表してください。



問 ”8 の字型” の映像を作るには白棒と黒棒をどんな風に動かすとよいか?